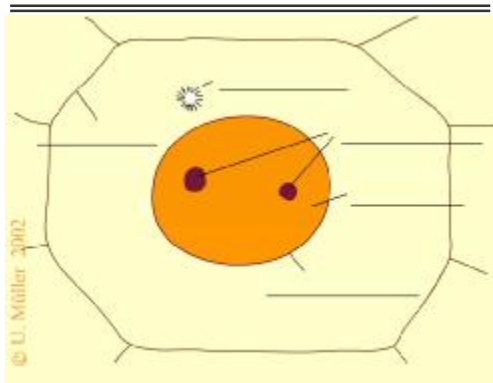


Das Wachstum eines Organismus erfolgt durch ununterbrochene Vermehrung von Zellen. Dies geschieht durch eine Zweiteilung der Zellen, die es im Folgenden zu erarbeiten gilt.

Aufgaben:

1. Benenne zunächst die Phasen, aus denen die einzelnen Bilder stammen.
2. Benenne die in den Bildern gekennzeichneten Zellbestandteile.
3. Beschreibe stichwortartig die einzelnen Phasen der Mitose mithilfe der Animation.
4. Erläutere anhand der Animation den Begriff "Zellzyklus".




---

---

---

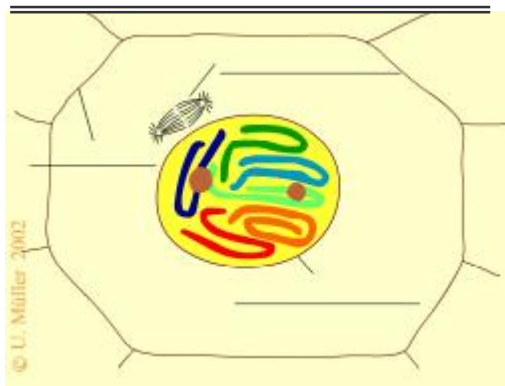
---

---

---

---

---




---

---

---

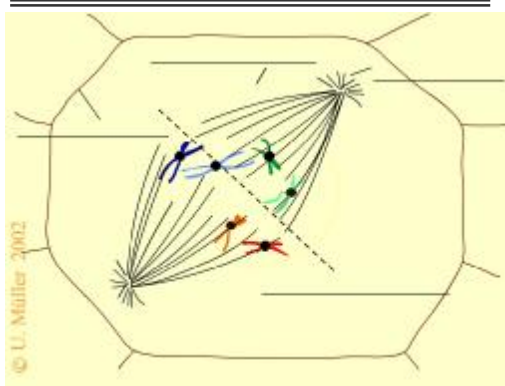
---

---

---

---

---




---

---

---

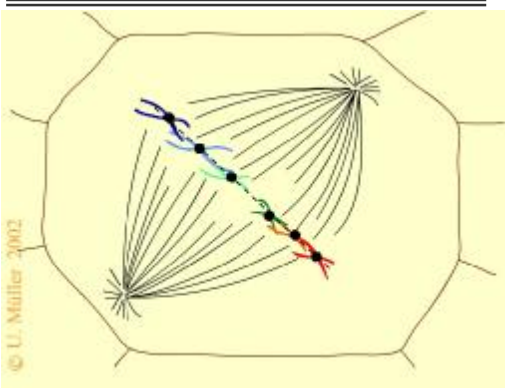
---

---

---

---

---



---

---

---

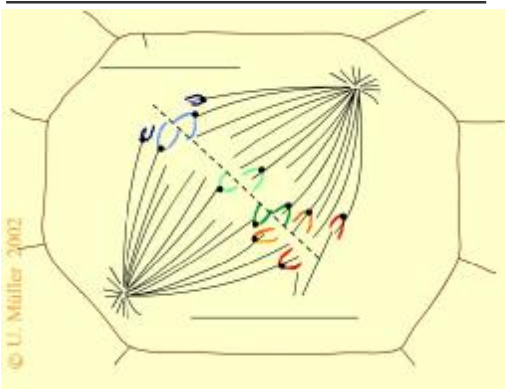
---

---

---

---

---



---

---

---

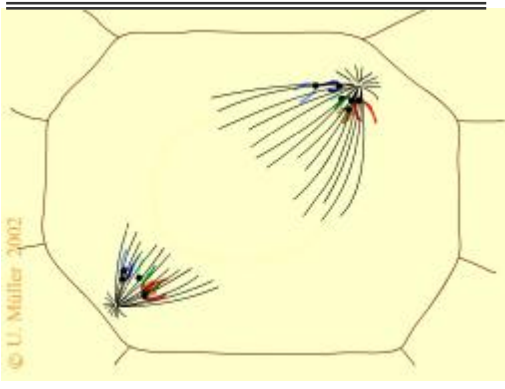
---

---

---

---

---



---

---

---

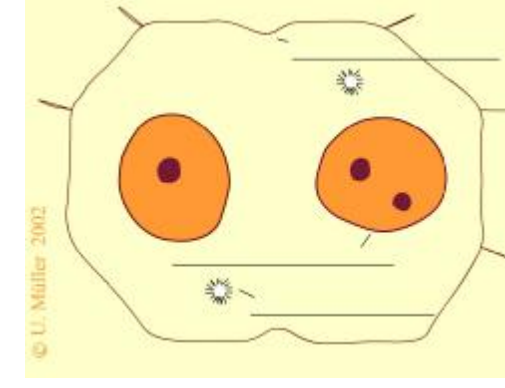
---

---

---

---

---



---

---

---

---

---

---

---

---